




# CUADERNO DE VERANO

## Educación Infantil y Educación Primaria

Ejercicios de repaso para no perder el ritmo de aprendizaje durante las vacaciones



# Bienvenida

## *Cómo aprovechar este cuaderno de verano*

El verano es un momento idóneo para consolidar lo aprendido durante el curso sin la presión académica de las evaluaciones. Este cuaderno reúne una selección de ejercicios organizados por etapa y curso, pensados para mantener activas la lectoescritura, el cálculo y la comprensión durante un periodo breve y constante cada día.

### **Recomendaciones de uso**

- Dedicar entre 15 y 25 minutos diarios, en sesiones cortas y constantes.
- Respetar el ritmo de cada niño o niña; no es necesario completar todas las páginas en un solo día.
- Las familias pueden acompañar la lectura de las instrucciones en Educación Infantil.
- En Primaria, fomentar que el alumnado revise sus propias respuestas antes de continuar.

**Educación Infantil** Grafomotricidad, vocales y primeros números

**1º y 2º de Primaria** Cálculo inicial, sílabas y comprensión lectora

**3º y 4º de Primaria** Multiplicación, división y ortografía

**5º y 6º de Primaria** Fracciones, decimales, geometría y redacción

# Educación Infantil

Grafomotricidad · Vocales · Primeros números



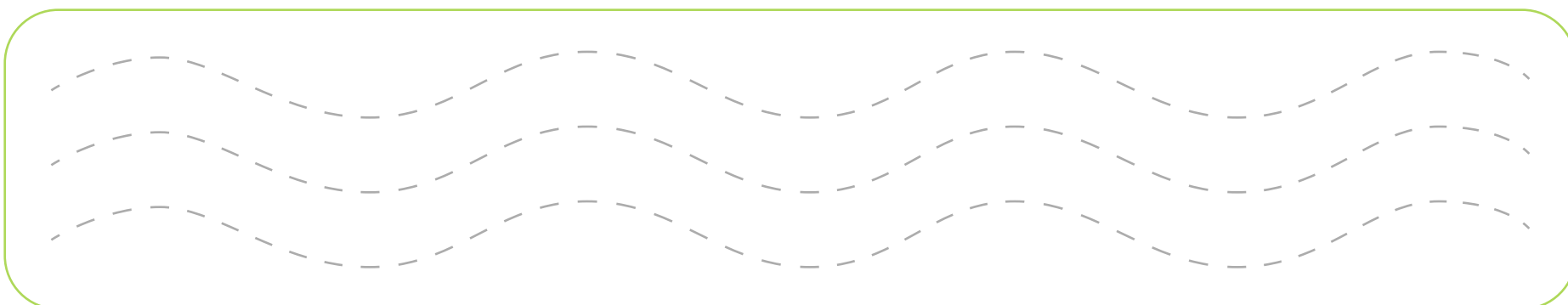
# Grafomotricidad

Repasa las líneas siguiendo el trazo punteado


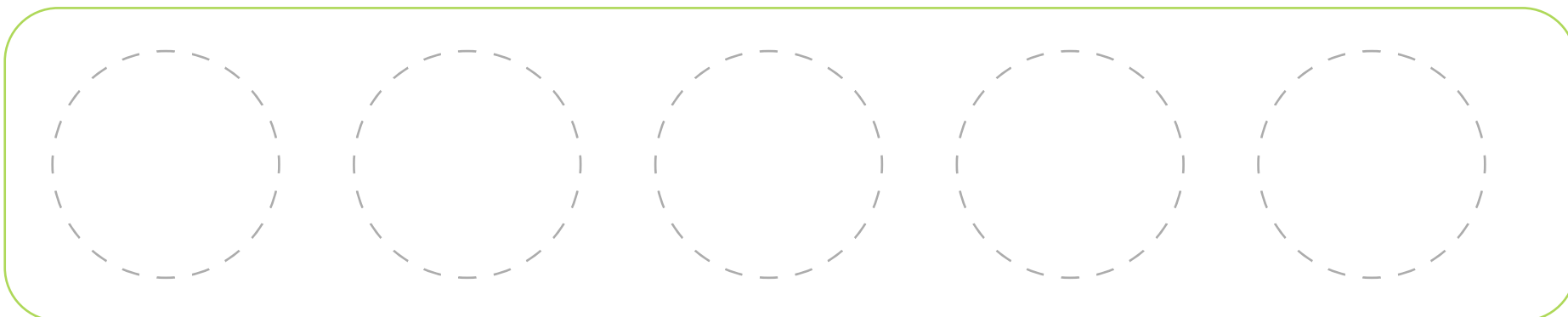
1 Líneas rectas.



2 Líneas onduladas.



3 Círculos.



Consejo: sujeta el lápiz con los tres dedos (pinza) y traza despacio, sin levantar la mano.

# Las vocales

Repasa cada vocal y rodea los dibujos que empiezan por ella


a

a a a a a a



A

A A A A A A




e

e e e e e e



E

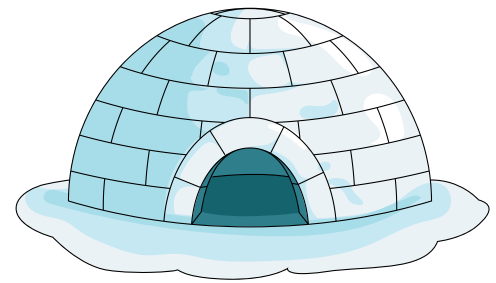
E E E E E E



# Las vocales

i

i i i i i i



I

I I I I I I




o

o o o o o o




O

O O O O O O



u

u u u u u u



U

U U U U U U

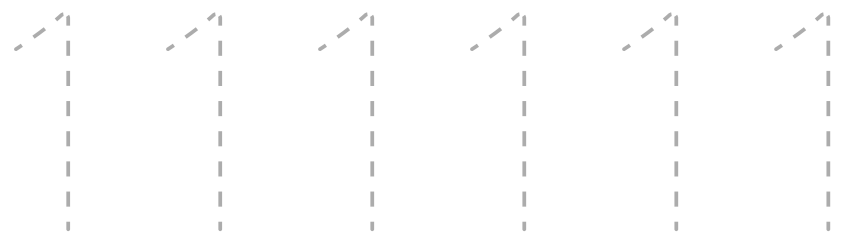


# Primeros números


Cuenta, traza y une cada cantidad con su número

1 Traza los números del 1 al 5

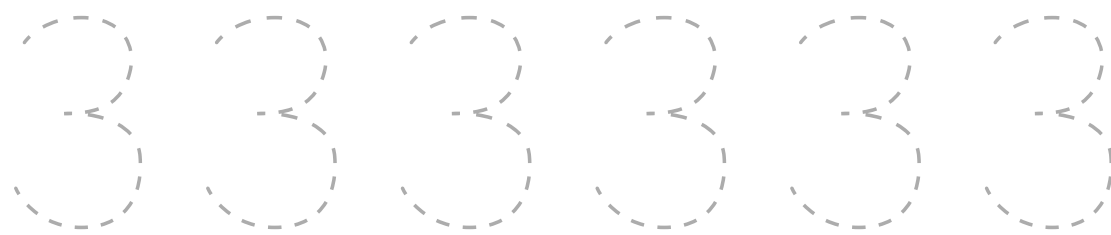
1



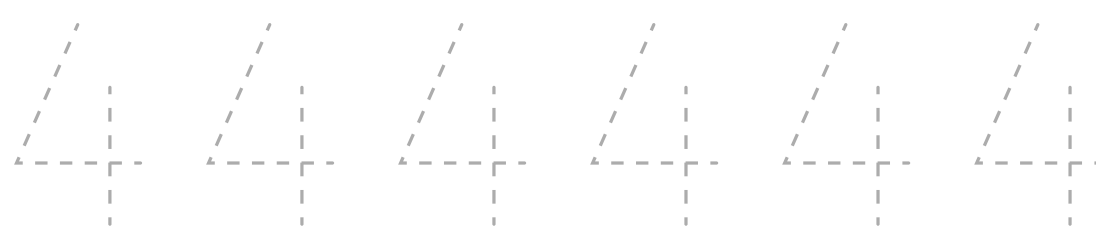
2



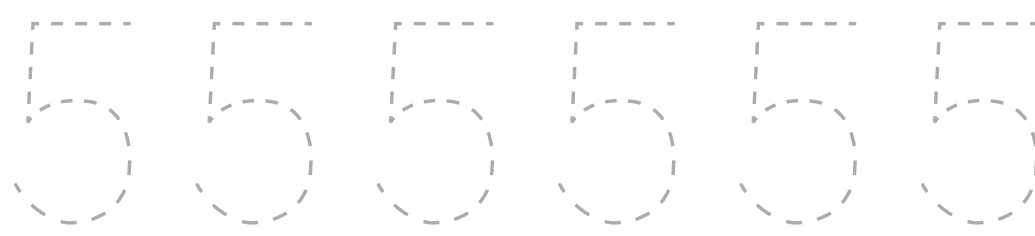
3



4




5




# Primeros números


2 Cuenta los elementos y escribe el número




A rounded rectangular box with a green border. At the top, there are three green circles arranged horizontally. Below them is a large, light grey rounded square box for writing the number.



A rounded rectangular box with a green border. At the top, there are five green circles arranged horizontally. Below them is a large, light grey rounded square box for writing the number.



A rounded rectangular box with a green border. At the top, there are two green circles arranged horizontally. Below them is a large, light grey rounded square box for writing the number.



A rounded rectangular box with a green border. At the top, there are four green circles arranged horizontally. Below them is a large, light grey rounded square box for writing the number.

# Primeros números

3 Une cada número con su cantidad

5

3

4

4 circles


3 circles

5 circles


# Colores y formas

Identifica, clasifica y colorea siguiendo las indicaciones

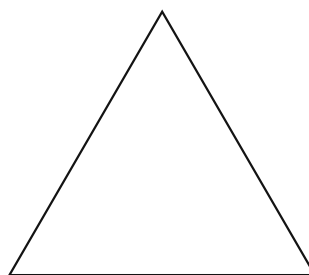
1 Colorea cada forma según el color indicado




Círculo: rojo



Cuadrado: azul







Triángulo: amarillo




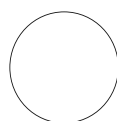


Rectángulo: verde



2 Rodea el elemento que no pertenece al grupo



3 Clasifica por tamaño: colorea el más grande y el más pequeño



4 Continúa la serie de colores.





# Educación Primaria

**Repaso por curso, de 1º a 6º de Primaria**

Actividades de Matemáticas y Lengua por curso

# 1º de Primaria · Matemáticas

## Ejercicios de repaso para el verano

### 1 Sumas y restas hasta 20

$$\begin{array}{lll} 7 + 6 = \square & 12 - 5 = \square & 9 + 8 = \square \\ 15 - 7 = \square & 6 + 9 = \square & 18 - 6 = \square \\ 8 + 4 = \square & 14 - 9 = \square & \end{array}$$

### 2 Completa las series numéricas

$$2, 4, 6, \square, 10, \square$$

$$20, 18, 16, \square, 12, \square$$

$$1, 3, 5, \square, 9, \square$$

### 3 Compara: escribe <, > o =

$$12 \square 9 \quad 7 \square 15 \quad 10 \square 10 \quad 14 \square 11$$

## 4 Problema: la cesta de fruta

Pablo tiene 8 manzanas y su madre le da 7 más. Después regala 4 a su amigo.  
¿Cuántas manzanas le quedan?

**Solución:**

Realiza la operación y apunta la solución final.

# 1º de Primaria · Lengua

## Ejercicios de repaso para el verano

### 1 Ordena las sílabas y forma la palabra

SA - CA

TO - PA

---

---

SOL

ME - SA

---

---

LU - NA

PI - TO

---

---

### 2 Completa con la vocal que falta

P\_\_TO

M\_\_SA

S\_\_L

L\_\_NA

G\_\_TO

P\_\_LOTA

### 3 Lectura: "El gato y la pelota"

Luna tiene un gato llamado Tom. A Tom le gusta jugar con una pelota roja en el jardín. Cada tarde, Luna lanza la pelota y Tom corre a buscarla. Cuando se cansa, Tom se tumba a la sombra de un árbol.

¿Cómo se llama el gato de Luna?

---

¿De qué color es la pelota?

---

¿Dónde se tumba Tom cuando se cansa?

---

# 2º de Primaria · Matemáticas

## Ejercicios de repaso para el verano

### 1 Sumas y restas con llevadas

$27 + 15 = \boxed{\phantom{00}}$

$43 - 18 = \boxed{\phantom{00}}$

$36 + 27 = \boxed{\phantom{00}}$

$52 - 29 = \boxed{\phantom{00}}$

$19 + 24 = \boxed{\phantom{00}}$

$61 - 35 = \boxed{\phantom{00}}$

### 2 Completa las tablas del 2 y del 5.

#### Tabla del 2

$2 \times 1 = \boxed{\phantom{00}}$

$2 \times 6 = \boxed{\phantom{00}}$

$2 \times 2 = \boxed{\phantom{00}}$

$2 \times 7 = \boxed{\phantom{00}}$

$2 \times 3 = \boxed{\phantom{00}}$

$2 \times 8 = \boxed{\phantom{00}}$

$2 \times 4 = \boxed{\phantom{00}}$

$2 \times 9 = \boxed{\phantom{00}}$

$2 \times 5 = \boxed{\phantom{00}}$

$2 \times 10 = \boxed{\phantom{00}}$

#### Tabla del 5

$5 \times 1 = \boxed{\phantom{00}}$

$5 \times 6 = \boxed{\phantom{00}}$

$5 \times 2 = \boxed{\phantom{00}}$

$5 \times 7 = \boxed{\phantom{00}}$

$5 \times 3 = \boxed{\phantom{00}}$

$5 \times 8 = \boxed{\phantom{00}}$

$5 \times 4 = \boxed{\phantom{00}}$

$5 \times 9 = \boxed{\phantom{00}}$

$5 \times 5 = \boxed{\phantom{00}}$

$5 \times 10 = \boxed{\phantom{00}}$

### 3 Mide y compara longitudes (cm)

Lápiz: 14 cm

Regla: 30 cm


Goma: 5 cm

¿Cuál es el objeto más largo? ¿Y el más corto?

---

### 4 Problema: la merienda compartida

En clase hay 24 niños y reparten 3 galletas a cada uno. ¿Cuántas galletas se han repartido en total?



# 2º de Primaria · Lengua

## Ejercicios de repaso para el verano

### 1 Comprensión lectora: "La huerta de la abuela"

En verano, la abuela Pilar cultiva tomates, lechugas y calabacines en su huerta. Cada mañana riega las plantas antes de que salga el sol, porque así el agua no se evapora tan rápido. Por las tardes, recoge lo que ya está maduro y lo guarda en cestas de mimbre.

¿Qué cultiva la abuela en su huerta?

---

¿Por qué riega las plantas antes de que salga el sol?

---

¿Dónde guarda lo que recoge?

---

### 2 Ortografía: m antes de p y b

CA\_\_PO                      TA\_\_BOR                      CO\_\_PRAR

TIE\_\_PO                      HO\_\_BRE                      A\_\_BOS

### 3 Singular y plural

Flor → \_\_\_\_\_

Pez → \_\_\_\_\_

Lápiz → \_\_\_\_\_

# 3º de Primaria · Matemáticas

## Ejercicios de repaso para el verano

### 1 Multiplicaciones.

$$\begin{array}{llll} 6 \times 3 = & \square & 7 \times 4 = & \square & 5 \times 8 = & \square \\ 9 \times 2 = & \square & 4 \times 6 = & \square & 8 \times 3 = & \square \end{array}$$

### 2 Problema: reparto de fruta.

Un agricultor recoge 84 manzanas y quiere repartirlas en bolsas de 6 manzanas cada una. ¿Cuántas bolsas puede llenar?

Realiza la operación y apunta la solución final.


Solución:

### 3 Geometría: identifica las figuras.



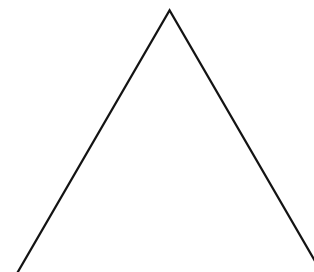
Nombre:

---



Nombre:

---



Nombre:

---

### 4 **Calcula el perímetro.**

Un rectángulo mide 8 cm de base y 5 cm de altura.

Realiza la operación y apunta la solución final.

**Perímetro =**

# 3º de Primaria · Lengua

## Ejercicios de repaso para el verano

### 1 Ortografía: ¿b o v?

NIE\_\_VE

\_\_OTELLA

A\_\_ION

\_\_ENTANA

CA\_\_ALLO

AR\_\_OL

JO\_\_EN

\_\_ARCO

### 2 Comprensión lectora: "La biblioteca del barrio".

Cada sábado, Marcos visita la biblioteca de su barrio para devolver los libros que ha leído y elegir otros nuevos.

Le gustan especialmente las historias de aventuras y los cómics. La bibliotecaria siempre le recomienda algún título distinto.

**¿Qué día va Marcos a la biblioteca?**

---

**¿Qué tipo de historias le gustan más?**

---

### 3 Clases de palabras: sustantivo, adjetivo o verbo.

Correr: \_\_\_\_\_

Azul: \_\_\_\_\_

Montaña: \_\_\_\_\_

Rápido: \_\_\_\_\_

Saltar: \_\_\_\_\_

Perro: \_\_\_\_\_

# 4º de Primaria · Matemáticas

## Ejercicios de repaso para el verano

### 1 Divisiones.

$84 \div 4 =$

$96 \div 6 =$

$72 \div 8 =$

$63 \div 3 =$

$108 \div 9 =$

$55 \div 5 =$

Puedes hacer tus divisiones aquí

## 2 Fracciones: colorea la parte indicada.

$1/2$

$3/4$

$2/3$

## 3 Problema con varias operaciones.

Marta compra 3 cajas de 12 lápices cada una y reparte todos los lápices a partes iguales entre 6 amigos.

¿Cuántos lápices recibe cada amigo?

Realiza la operación y apunta la solución final.

Solución =

## 4 Unidades de medida: completa.

1 kg =  g

1 m =  cm

1 litro =  ml

# 4º de Primaria · Lengua

## Ejercicios de repaso para el verano

### 1 Sinónimos y antónimos.

Escribe un sinónimo:

Contento → \_\_\_\_\_

Veloz → \_\_\_\_\_

Grande → \_\_\_\_\_

Escribe un antónimo:

Alto → \_\_\_\_\_

Día → \_\_\_\_\_

Caliente → \_\_\_\_\_

### 2 Ortografía: ¿g o j?

\_\_IRAFA

RELO\_\_

\_\_ENTE

\_\_ARDÍN

TRABA\_\_O

A\_\_EDREZ

### 3 Comprensión lectora: "El faro del puerto".

El faro del puerto lleva más de cien años guiando a los barcos durante la noche. Antiguamente, un farero vivía allí y encendía la luz a mano cada tarde. Hoy en día, un sistema automático se encarga de esa tarea

**¿Quién encendía antiguamente la luz del faro?**

---

**¿Qué se encarga hoy de esa tarea?**

---

# 5º de Primaria · Matemáticas

## Ejercicios de repaso para el verano

**1** Decimales: ordena de menor a mayor.

3,45    2,9    3,5    2,87    3,04

**2** Fracciones equivalentes.

$$1/2 = \boxed{\phantom{00}} / 4$$

$$3/5 = \boxed{\phantom{00}} / 10$$

$$2/3 = \boxed{\phantom{00}} / 9$$

$$1/4 = \boxed{\phantom{00}} / 12$$

### 3 Problema con varias operaciones.

Un autobús de 54 plazas hace un viaje con 38 pasajeros. En la primera parada bajan 12 personas y suben 9. ¿Cuántas plazas libres quedan en el autobús?

Realiza la operación y apunta la solución final.

**Solución =**

# 5º de Primaria · Lengua

## Ejercicios de repaso para el verano

### 1 Análisis gramatical: subraya el sujeto.

Los estudiantes presentaron su proyecto en clase.

Mi hermana pequeña colecciona postales antiguas.

El equipo de baloncesto ganó el campeonato regional.

Los vecinos del barrio organizaron una fiesta popular.

### 2 Tilde diacrítica: completa con la palabra correcta.

(El / Él) perro está en el jardín.

Quiero (te / té) con limón.

(Mi / Mí) hermano llega mañana.

### 3 Comprensión lectora: "El mercado de los sábados".

Cada sábado por la mañana, la plaza mayor se llena de puestos de fruta, queso y flores. Los vendedores llegan antes del amanecer para colocar sus productos, y a media mañana el mercado ya está lleno de vecinos haciendo la compra semanal.

**Resume el texto en una sola frase:**

---

# 6º de Primaria · Matemáticas

## Ejercicios de repaso para el verano

### 1 Porcentajes.

El 20% de 150 =


El 50% de 84 =

El 10% de 230 =

El 25% de 200 =

Puedes hacer tus divisiones aquí

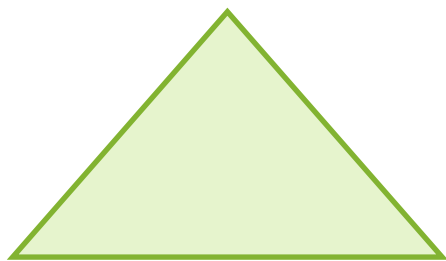
2 Geometría: calcula el área.



Base = 9 cm    Altura = 6 cm

Área =

Realiza la operación y apunta la solución final.



Base = 8 cm    Altura = 5 cm

Área =

Realiza la operación y apunta la solución final.

### 3 Problema con varias operaciones.

Una librería compra 320 libros a 6 euros cada uno y los vende todos a 9,50 euros la unidad. Calcula el beneficio total obtenido en la venta.

Realiza la operación y apunta la solución final.

**Solución =**

### 4 Proporcionalidad: completa la tabla.

Si 3 bolígrafos cuestan 1,50 euros, ¿cuánto cuestan 7 bolígrafos?

Realiza la operación y apunta la solución final.

**Solución =**

# 6º de Primaria · Lengua

## Ejercicios de repaso para el verano

### 1 Análisis morfológico: clasifica las palabras.

Felicidad: \_\_\_\_\_ Rápidamente: \_\_\_\_\_

Construir: \_\_\_\_\_ Hermoso: \_\_\_\_\_

### 2 Conectores textuales: completa el texto.

*Conectores sugeridos: primero, a continuación, finalmente, sin embargo, por último*

\_\_\_\_\_, los alumnos terminaron el examen. \_\_\_\_\_, salieron al patio a disfrutar del recreo. \_\_\_\_\_, todos estaban cansados después de la prueba.

### 3 Redacción breve.

Describe en 5 o 6 líneas un plan que te gustaría hacer este verano.

---

---

---

---

---

---

# Soluciones

Para que las familias puedan corregir los ejercicios de cálculo

## 1º Primaria

$7+6=13$  ·  $12-5=7$  ·  $9+8=17$  ·  $15-7=8$  ·  $6+9=15$  ·  $18-6=12$  ·  $8+4=12$  ·  $14-9=5$  · Cesta de fruta: 11 manzanas

## 2º Primaria

$27+15=42$  ·  $43-18=25$  ·  $36+27=63$  ·  $59-29=30$  ·  $19+24=43$  ·  $61-35=26$  ·  
Merienda: 72 galletas

## 3º Primaria

$6 \times 3=18$  ·  $7 \times 4=28$  ·  $5 \times 8=40$  ·  $9 \times 2=18$  ·  $4 \times 6=24$  ·  $8 \times 3=24$  · Reparto de fruta: 14 bolsas ·  
Perímetro: 26 cm

## 4º Primaria

$84 \div 4=21$  ·  $96 \div 6=16$  ·  $72 \div 8=9$  ·  $63 \div 3=21$  ·  $108 \div 9=12$  ·  $55 \div 5=11$  · Lápices por amigo:  
 $6$  ·  $1 \text{ kg}=1000 \text{ g}$  ·  $1 \text{ m}=100 \text{ cm}$  ·  $1 \text{ l}=1000 \text{ ml}$

## 5º Primaria

Decimales ordenados: 2,87 - 2,9 - 3,04 - 3,45 - 3,5 · Autobús: 35 plazas libres · Área del rectángulo base 9 altura 6:  $54 \text{ cm}^2$

## 6º Primaria

20% de 150=30 · 50% de 84=42 · 10% de 230=23 · 25% de 200=50 · Rectángulo:  $54 \text{ cm}^2$  · Triángulo:  $20 \text{ cm}^2$  · Librería: beneficio de 1.120 € · 7 bolígrafos: 3,50 €

*Las fracciones, la geometría y las preguntas de comprensión lectora admiten respuestas abiertas; se recomienda revisarlas junto al alumno o alumna.*

# ¡Buen trabajo!

*Has completado el Cuaderno de Verano de Red Educa*

En Red Educa acompañamos a docentes y familias durante todo el curso con recursos, formación y materiales descargables. Visita [rededuca.es](https://rededuca.es) para descubrir más cuadernos, guías y artículos pensados para el aprendizaje en cada etapa educativa.

[rededuca.es](https://rededuca.es)

Síguenos para más recursos educativos durante todo el año

Síguenos en nuestras redes sociales



Y descubre lo último en educación a través de nuestro blog

[Red Educa Blog](#)